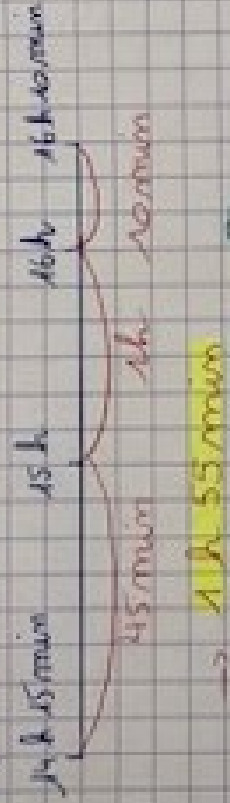


# Mesurer des durées CM2

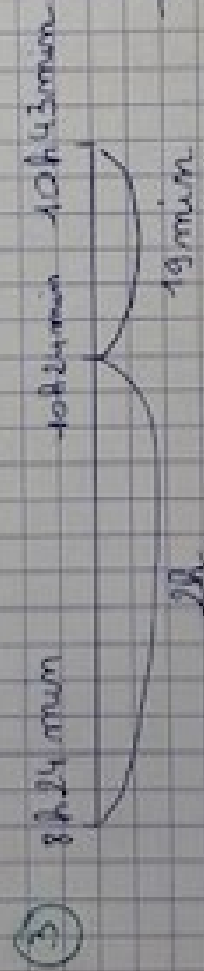
1) Je réalise un schéma :




2)  $1825$   $1885$   $1995$   
naissance  $60$   $12$  mort

a. Il a découvert le vaccin à 63 ans.


b. Il a vécu 73 ans  
(ou bien 63 + 10 ans)



durée = 2h 19 min



arrivé à 20h 43min



départ = 17h 55 min