
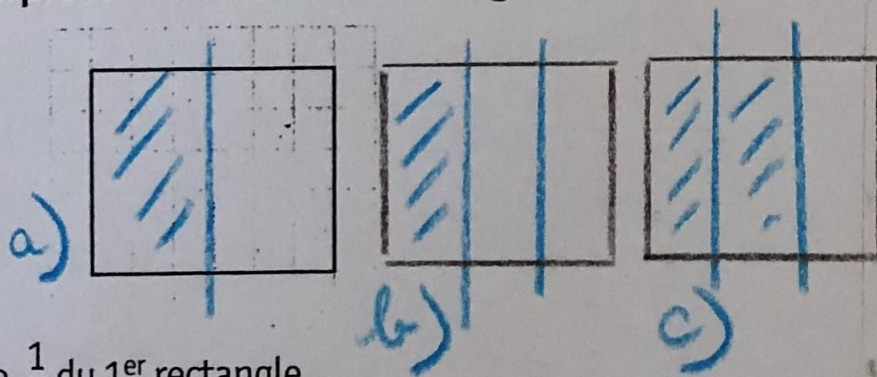


5 * Reproduis ces bandes et colorie la partie correspondant à chaque fraction.



6 ** Reproduis trois fois ce rectangle.




a. Colorie $\frac{1}{2}$ du 1^{er} rectangle.

b. Colorie $\frac{1}{3}$ du 2^e rectangle.

c. Colorie $\frac{2}{2}$ du 3^e rectangle.

9 * Écris ces fractions en lettres.



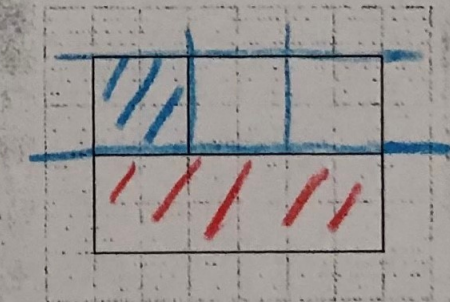
sept neuvièmes
cinq dixièmes
trois quarts
sept demis
un tiers
cinq huitièmes

10 ** Écris ces fractions en chiffres.

- a. huit cinquièmes
- b. trois tiers $\frac{3}{3}$
- c. quatre sixièmes
- d. deux huitièmes $\frac{2}{8}$
- e. deux quarts $\frac{2}{4}$
- f. quatre cinquièmes $\frac{4}{5}$
- g. un demi $\frac{1}{2}$
- h. neuf douzièmes $\frac{9}{12}$

$\frac{8}{5}$
 $\frac{4}{6}$

Défi Reproduis cette figure et colorie-la en suivant les consignes.



La partie rouge est égale à $\frac{1}{2}$ de la figure.

La partie bleue est égale à $\frac{1}{3}$ de la partie blanche restante.